

കണ്ടെത്താം

14	9	2
3	5	17
8	11	6

കളങ്ങളിൽ നേരെയും കുത്തനെയും വരുന്ന മൂന്ന് സംഖ്യകൾ കൂട്ടിനോക്കാം

$$14+9+2 =$$

$$2+17+6 =$$

ഇങ്ങനെ മറ്റുള്ളവയും കൂട്ടിനോക്കി ഉത്തരം കണ്ടെത്തൂ

There is geometry in the humming of the strings, there is music in the spacing of the spheres.

-Pythagoras

മഞ്ചാടിക്കരയിലെ ഉത്സവം

June 2017 						
Su	Mo	Tu	We	Th	Fr	Sa
				1	2	3
4	5	6	7	8	9	10
11	12	13	14	15	16	17
18	19	20	21	22	23	24
25	26	27	28	29	30	

© www.calendarpedia.com

ഈ മാസം മൂന്നാമത്തെ ശനിയാഴ്ച അല്ലെങ്കിൽ ഇവന്റെ അച്ചൻ വരുന്നത്



Hello ഈ മാസം 14 ന് ഞങ്ങൾ നാട്ടിലേക്ക് വരുകയാണ്



ജൂൺ 1 ന് ഞങ്ങളുടെ സ്കൂൾ ഉറക്കുമല്ലോ



മൂന്നാം ശനിയാഴ്ച ഏതാണ് തീയതി? →



വ്യാഴാഴ്ചകൾ ഏതെല്ലാം തീയതികളിലാണ് വരുന്നത്

ക്രമത്തിലെഴുതൂ → 

മാസത്തിലെ മൂന്നാമത്തെ വെള്ളിയാഴ്ച എത് തീയതിയാണ്? →




"MATHEMATICIANS AREN'T SATISFIED BECAUSE THEY KNOW THERE ARE NO SOLUTIONS UP TO FOUR MILLION OR FOUR BILLION, THEY REALLY WANT TO KNOW THAT THERE ARE NO SOLUTIONS UP TO INFINITY."

ANDREW WILES
@andrewwiles


മേളക്കാഴ്ച


എണ്ണിനോക്കാം



പൂമ്പാറ്റകളുടെ എണ്ണം → 

റോസ് പൂക്കളുടെ എണ്ണം → 

സൂര്യകാന്തി പൂക്കളുടെ എണ്ണം → 

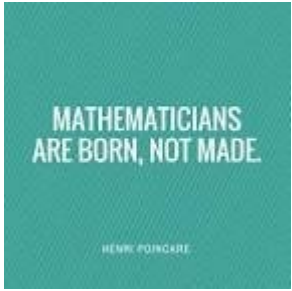
ആകെ എണ്ണം → 

വിട്ടു പോയ അക്കങ്ങൾ കണ്ടെത്തി എഴുതൂ

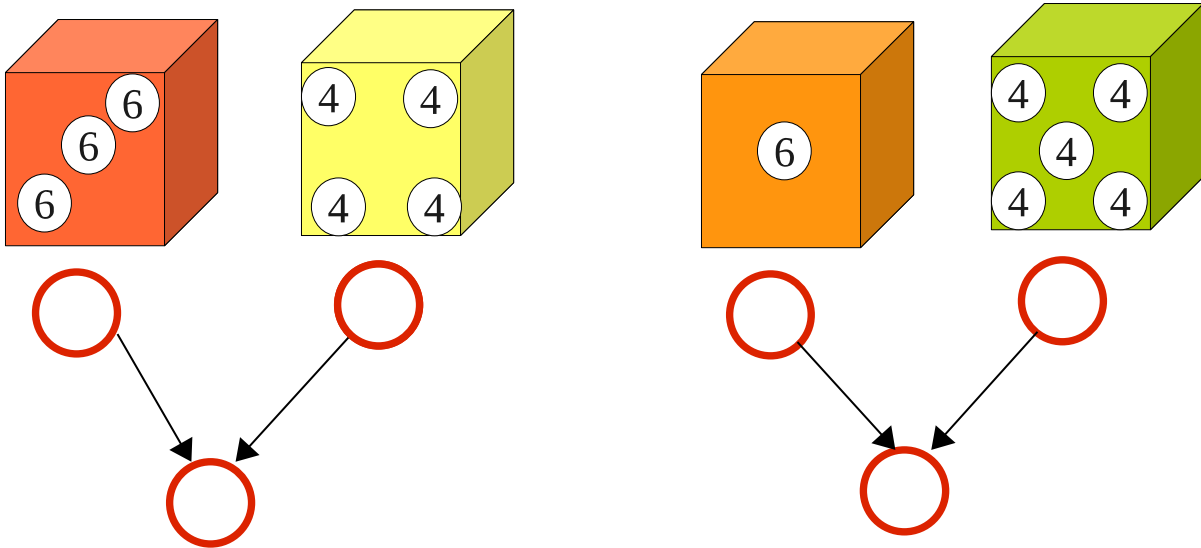
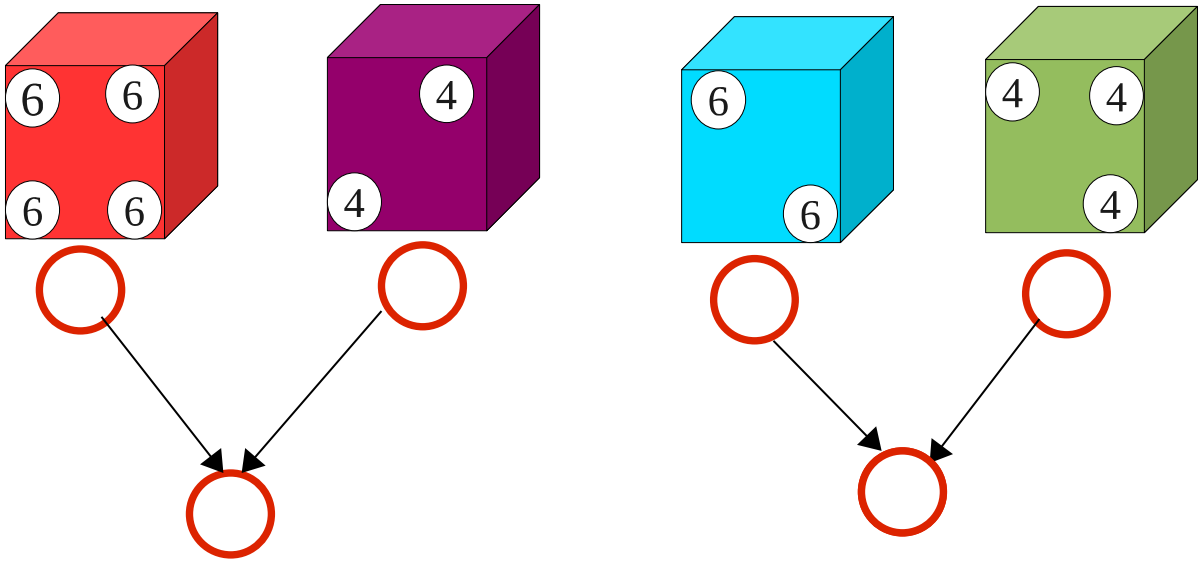
26 നും 30 നും ഇടക്കുള്ള സവ്യകൾ ഏത് →

20 വീതം കൂട്ടി സംഖ്യ എഴുതൂ →

ഡൈസ് കളി



ഉത്തരങ്ങൾ കണ്ടെത്തി കളങ്ങൾ പൂർത്തിയാക്കുമല്ലോ?



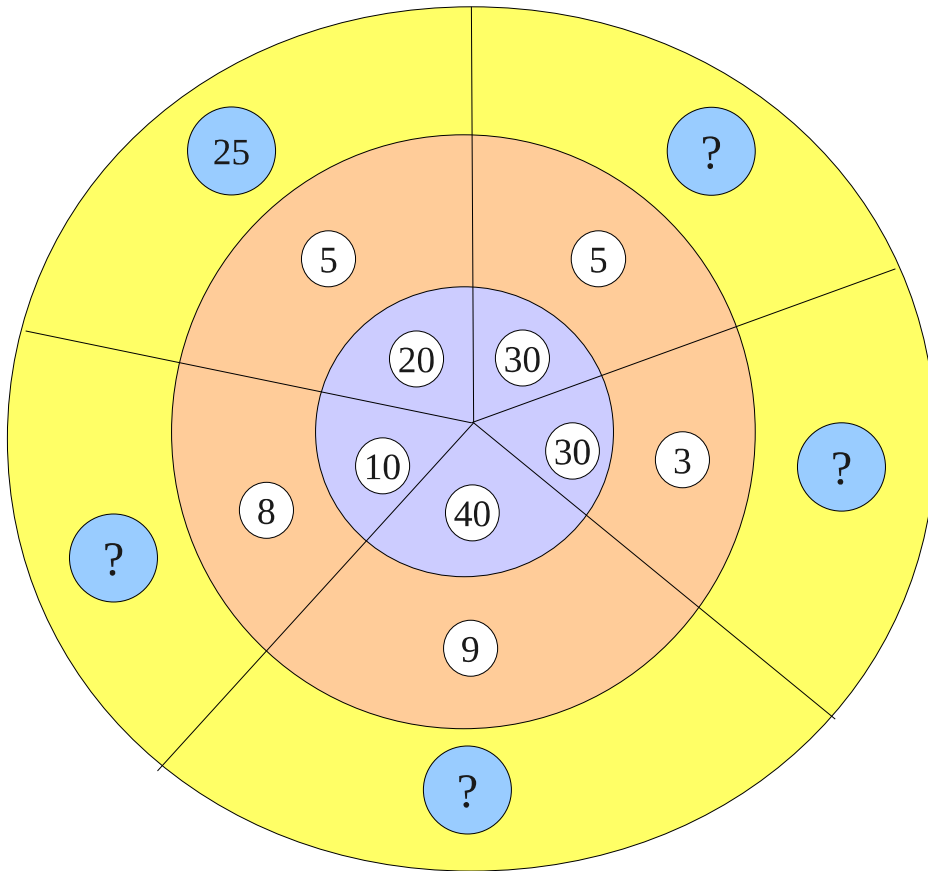
"MATHEMATICIANS AREN'T SATISFIED
BECAUSE THEY KNOW THERE ARE NO
SOLUTIONS UP TO FOUR MILLION OR FOUR
BILLION. THEY REALLY WANT TO KNOW THAT
THERE ARE NO SOLUTIONS UP TO INFINITY."

ANDREW WILES

© 2004

സംഖ്യ ഏത് ?

സംഖ്യകൾ കണ്ടെത്തി എഴുതുക



I HAVE HAD MY RESULTS FOR A LONG TIME- BUT I DO NOT YET KNOW HOW I AM TO ARRIVE AT THEM.
CARL FRIEDRICH GAUSS

ഘട്ടം:1 ഒരു അവധിക്കാലത്ത്

വർക്ക് ഷീറ്റ്..1

തൊടിയിലെ കാഴ്ചകൾ

എണ്ണി നോക്കാം

