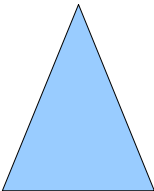

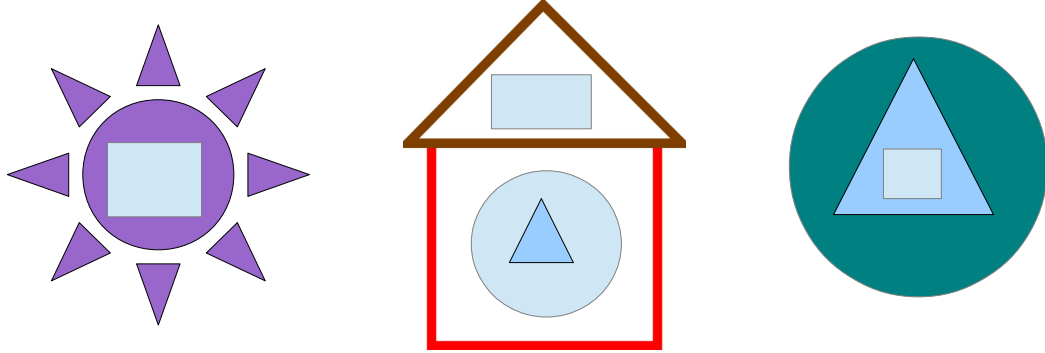


# Pre test class 2

## ഗണിതം

1. താഴെ കൊടുത്തിരിക്കുന്ന ചിത്രങ്ങളിലെ ഗണിത രൂപങ്ങൾ എണ്ണി എഴുതാമോ?



2. ഓരോ പുട്ടിനും അനുയോജ്യമായ താക്കോൽ കണ്ടെത്തി യോജിപ്പിക്കൂ....



# Pre test class 2 ഗണിതം

## 3. പട്ടിക പൂർത്തിയാക്കാം

സാധനങ്ങൾ	കൊടുത്ത നോട്ടുകൾ	ആകെ
	2 പത്ത് 8 ഒന്നുകൾ	
	8 ഒന്നുകൾ	
	3 പത്തുകൾ	
	8 പത്തുകൾ 9 ഒന്നുകൾ	

# Pre test class 2

## ഗണിതം



5 ഒന്നുകൾ

4 ചിനുവാങ്ങിയ സാധനങ്ങളുടെ വില കുറഞ്ഞവയിൽ നിന്ന് കൂടിയതിലേക്ക് എന്ന ക്രമത്തിൽ എഴുതാമോ?



5. കയ്യിലുള്ള ബാക്കി പൈസ ചിനു എണ്ണി നോക്കി ആകെ 19 രൂപയുണ്ട്....

